

Gobierno
del Estado



Coahuila
de Zaragoza

SE

SECRETARÍA
DE EDUCACIÓN

DGEP

DIRECCIÓN GENERAL DE
EDUCACIÓN PRIMARIA

Subsecretaría de Educación Básica
Dirección General de Educación Primaria
Dirección de Calidad Académica

Instrumento de Evaluación del Tercer Momento 2° Grado Ciclo escolar 2021-2022

Nombre del alumno (a): _____

Nombre del maestro (a): _____

Nombre de la escuela: _____

Fecha: _____



Asignatura	Reactivos	Aciertos	Calificación
Español	10		
Matemáticas	10		
Conocimiento del Medio	5		
Formación Cívica y Ética	5		

Promedio

Firma del padre
o tutor

6. ¿Cuál de las siguientes imágenes está en un Acta de Nacimiento?



A)



B)



C)

Después de leer las indicaciones del juego, responde las preguntas 7 y 8.

INSTRUCCIONES DEL JUEGO

1. Todos los niños formar una fila.
2. Deben estar tomados de las manos unos de otros.
3. Dos niños deben estar agarrados de las manos con las mismas hacia arriba, formando un arco. Uno se llama sandía y el otro melón.
4. El resto de los niños cantan versos y corren sin soltarse de las manos para pasar por debajo de los niños que forman el arco con sus manos.
5. Finalmente cuando se acaben los versos dejan de correr y los niños que forman el arco deben sujetar al niño que justo quedó por debajo de sus brazos.
6. Los niños que forman el arco le preguntan: ¿con quién te quedas, con melón o con sandía?
7. Dependiendo de la elección, el niño debe colocarse detrás del niño; ya sea melón o sandía, formando así otro arco por donde todos deben pasar.

<https://viajesdeunchapin.com/juegos-tradicionales-mexicanos/>

7. Las instrucciones anteriores, ¿a qué juego tradicional corresponden?

- A) La víbora de la mar B) Saltar la cuerda C) La gallinita ciega

8. ¿Cuál es una diferencia de los juegos tradicionales con los actuales?

- A) Usan internet B) Tienen reglas C) Son al aire libre

Lee la siguiente obra de teatro y responde las preguntas 9 y 10.

Una noche en la granja.

Profesora: Niños, es hora de subir al autobús. Estaremos de vuelta mañana a la hora de comer.

Alba: ¡Qué emoción!

Lucas: Yo estoy contento y un poco nervioso.

Profesora: *(Está al lado de los niños)* No se preocupen.

Carlota: *(Abre su maleta)* ¡Voy a ordenar mi ropa!

Andrés: Yo me voy a poner las botas para salir al campo.

Alba: A mí, solo me falta atarme los cordones de los zapatos. ¿Me puedes ayudar Lucas?

Lucas: ¡Claro que sí!

Profesora: Lo ven niños, ¿qué no es tan complicado hacer estas cosas?

Carlota: Tiene razón profesora.

Profesora: Por eso una salida a la granja ayuda mucho, es divertido y tienen la oportunidad de hacer cosas nuevas.

<https://www.guiainfantil.com/ocio/teatro/3-obras-de-teatro-muy-cortas-para-fomentar-la-autonomia-de-los-ninos/Adaptación>

9. ¿Cuántos personajes tiene la obra de teatro "Una noche en la granja"?

A) 11

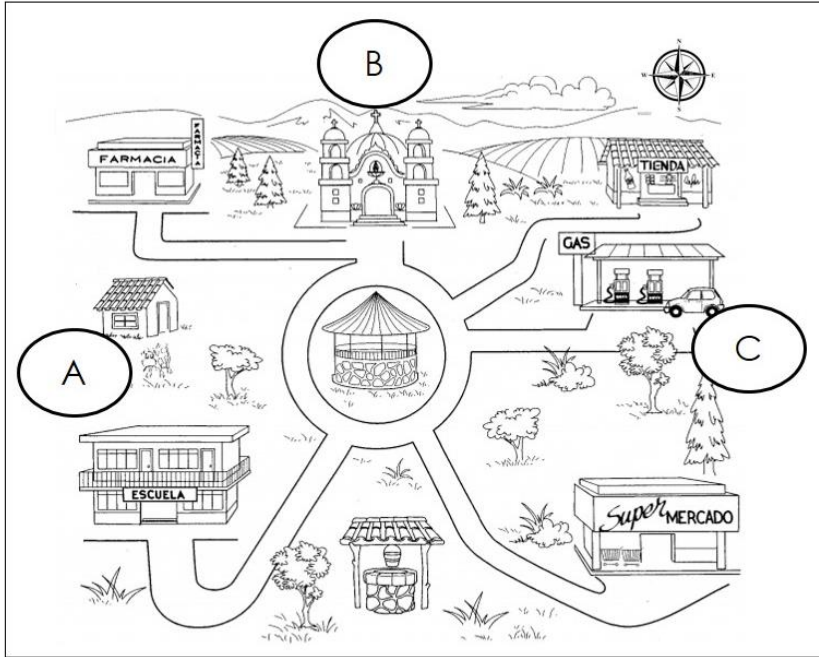
B) 7

C) 5

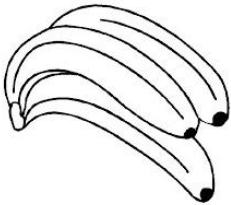
CONOCIMIENTO DEL MEDIO

Ayuda a Mary a identificar en el croquis del pueblo el siguiente lugar y selecciona la opción correcta.

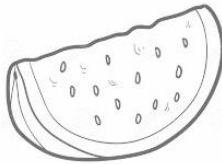
21. Al **fondo**, de lado **derecho** de la farmacia, **entre** los pinos y de **frente** al kiosco está ...



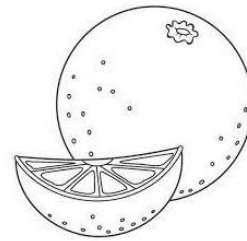
22. De los siguientes alimentos, ¿cuál tiene sabor **amargo**?



A)



B)



C)

23. ¿En cuál de las siguientes imágenes hay un **objeto** o **material** en estado sólido?



A)



B)



C)

24. Esta estación del año se caracteriza porque las hojas de los árboles se caen, hace viento fuerte y el clima es más fresco. ¿A que estación del año pertenece la descripción anterior?

A) Invierno

B) Verano

C) Otoño

25. Identifica en cuál de las siguientes imágenes se encuentra una **acción** para cuidar el medio ambiente



A)



B)




C)

FORMACIÓN CÍVICA Y ÉTICA


26. ¿En cuál de las siguientes imágenes se presenta el apoyo entre compañeros al hacer los ejercicios en el salón de clases?



A)



B)



C)

27. Selecciona la imagen que presenta el **apoyo mutuo** al hacer la limpieza en el hogar



A)




B)



C)

28. Selecciona la imagen donde los alumnos realizan la campaña para el cuidado del medio ambiente



A)



B)



C)

Lee lo siguiente y después responde las preguntas 29 y 30.

En la siguiente tabla los niños de segundo grado hicieron la votación para saber qué libro leerán el próximo viernes.

NOMBRE DEL LIBRO	NÚMERO DE VOTOS
Caperucita roja	/// /
Los tres cochinitos	////
Blanca Nieves	/// //

29. ¿Cuál es el nombre del libro que van a leer primero los niños?

A) Caperucita roja

B) Los tres cochinitos

C) Blanca Nieves

30. ¿Cuántos niños votaron en el salón de segundo grado?

A) 15

B) 17

C) 20