

Secretaría de Educación  
 Subsecretaría de Educación Básica  
 Dirección General de Educación Primaria  
 Dirección de Calidad Académica

**Instrumento de Evaluación del Primer Momento**  
**2<sup>do</sup> grado Ciclo escolar 2022-2023**

Nombre del alumno (a): \_\_\_\_\_  
 Nombre del maestro (a): \_\_\_\_\_  
 Nombre de la escuela: \_\_\_\_\_  
 Fecha: \_\_\_\_\_

**2**  
GRADO



Campo formativo	Reactivos	Aciertos	Calificación	Promedio
Español	10			<input type="text"/>  Firma del padre o tutor
Matemáticas	10			
Conocimiento del Medio	10			
Formación Cívica y Ética	10			

## INSTRUCCIONES GENERALES

Lee atentamente cada reactivo y subraya la respuesta correcta.

### ESPAÑOL

Lee con atención el siguiente texto y responde los reactivos 1 y 2.

#### Pompón, el conejito tragón



Había una vez un conejito muy pequeñito que vivía en el bosque, y cuando se acurrucaba parecía una bolita de pelusa blanca, y por eso lo llamaron "Pompón". Pompón era muy juguetón y estaba todo el día investigando, le gustaba mucho morder las cosas, pero sobre todo le gustaba comer.

Un día, Pompón encontró algo curioso junto a un árbol, al ver que era pequeño, lo mordisqueó y al rato se marchó a casa, a echarse una siestecita.

- Mamá, me duele la barriga - se quejó Pompón.
- ¿Has comido algo nuevo en el bosque? - preguntó mamá.
- No - mintió Pompón para evitar que lo regañaran.

Los días pasaron, y Pompón seguía con dolor de barriga, no quería comer y le costaba beber. El se cansó de estar malito, y confesó que había comido una cosa rara en el bosque.

A partir de entonces, Pompón no volvió a mentir cuando comía algo raro o cuando se metía donde no debía. Porque malo es hacer las cosas mal, pero peor todavía, es no reconocerlo y que no te puedan ayudar.

Adaptación: Eva María Rodríguez.

1. ¿Cuáles son los personajes del cuento que acabas de leer?

A) Pompón y la comida

B) El bosque y un árbol

C) Pompón y su mamá

2. ¿Cuál era el nombre del conejito blanco?

A) Pompón

B) Pelusa

C) Bolita

Observa el siguiente calendario.

## Calendario 2022

Enero							Febrero							Marzo						
Lu	Ma	Mi	Ju	Vi	Sa	Do	Lu	Ma	Mi	Ju	Vi	Sa	Do	Lu	Ma	Mi	Ju	Vi	Sa	Do
					1	2		1	2	3	4	5	6		1	2	3	4	5	6
3	4	5	6	7	8	9	7	8	9	10	11	12	13	7	8	9	10	11	12	13
10	11	12	13	14	15	16	14	15	16	17	18	19	20	14	15	16	17	18	19	20
17	18	19	20	21	22	23	21	22	23	24	25	26	27	21	22	23	24	25	26	27
24	25	26	27	28	29	30	28							28	29	30	31			
31																				


  

Abril							Mayo							Junio						
Lu	Ma	Mi	Ju	Vi	Sa	Do	Lu	Ma	Mi	Ju	Vi	Sa	Do	Lu	Ma	Mi	Ju	Vi	Sa	Do
				1	2	3							1			1	2	3	4	5
4	5	6	7	8	9	10	2	3	4	5	6	7	8	6	7	8	9	10	11	12
11	12	13	14	15	16	17	9	10	11	12	13	14	15	13	14	15	16	17	18	19
18	19	20	21	22	23	24	16	17	18	19	20	21	22	20	21	22	23	24	25	26
25	26	27	28	29	30		23	24	25	26	27	28	29	27	28	29	30			
							30	31												


3. Elige la opción correcta que contenga la fecha que se indica con un pastel, en el calendario anterior.

- A) viernes, 11 de febrero de 2021      B) viernes, 11 de febrero de 2022      C) lunes, 11 de enero de 2022


4. Selecciona la ilustración que indique una regla para el uso de la biblioteca.



A)



B)



C)





7. Elige la opción que completa correctamente el espacio señalado con un rectángulo, en el instructivo anterior.

A) Instrucciones

B) Ingredientes

C) Materiales

Observa la siguiente imagen.



8. El texto anterior sirve para dar a conocer productos y servicios; y se le conoce como un ejemplo de:

A) leyenda de terror

B) cartel informativo

C) anuncio publicitario

9. ¿A qué te invita el texto anterior?

A) Imaginar

B) Sonreír

C) Cuidar

Observa la portada del siguiente libro.



10. Elige la opción correcta que invita a los niños a realizar la lectura del libro anterior.

Una historia llena de aventuras, que nos enseña el valor de la familia y nos invita a practicar la honestidad.

A)

Un cuento lleno de aventuras, en donde un dragón se enamora de una princesa y salva al mundo de la bruja malvada.


B)

Aprenderás a cocinar riquísimas recetas. El pollo será la proteína principal para preparar exquisitos platillos.


C)

## MATEMÁTICAS

11. Observa las siguientes imágenes y selecciona la actividad que tarda más tiempo en realizarse:



A)

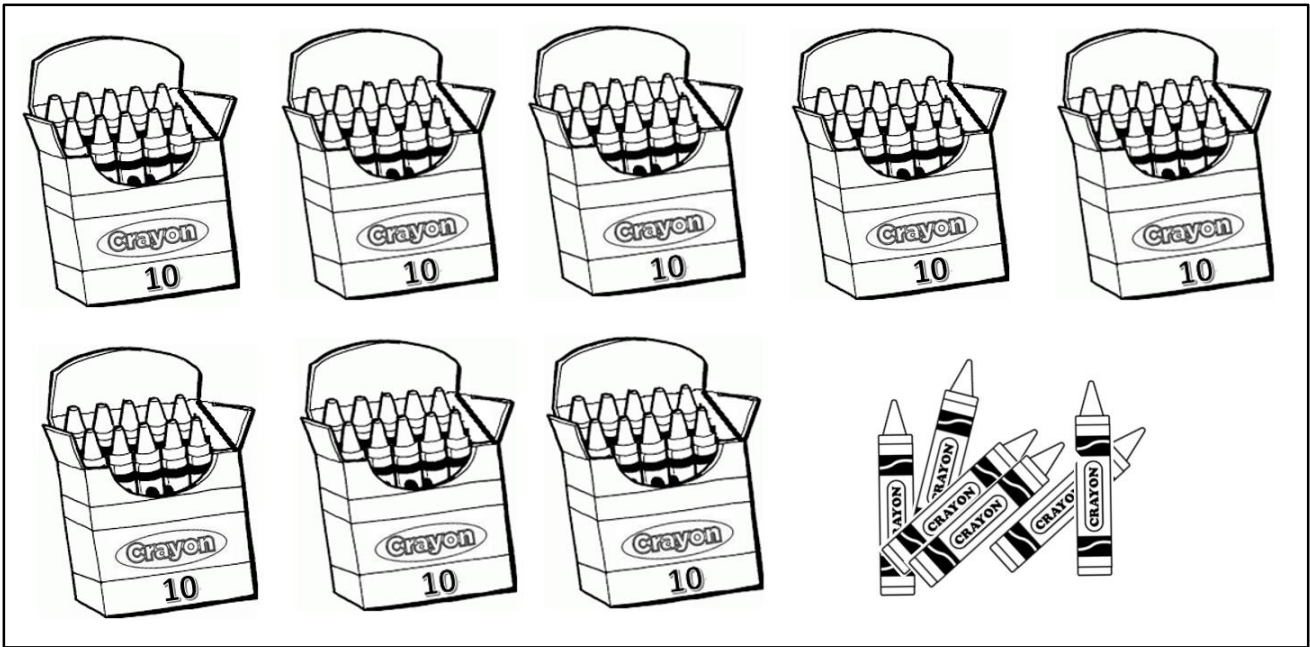


B)



C)

Observa la siguiente imagen.



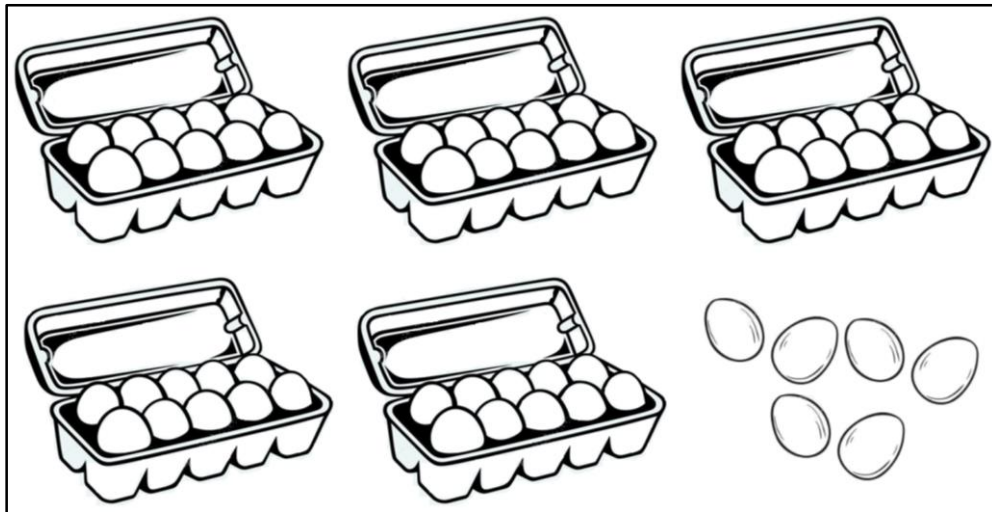
12. Selecciona la opción que indique la cantidad correcta de colores.

A) 14

B) 80

C) 86

Observa la siguiente imagen.



13. Elige la opción con la cantidad correcta de decenas y unidades de huevos.

A) 10 decenas y 6 unidades

B) 6 decenas y 6 unidades

C) 5 decenas y 6 unidades

Observa la siguiente imagen.



14. Daniel fue a la tienda de abarrotes "Los 4 hermanos" a comprar 1 kilogramo de azúcar, 1 kilogramo de frijol, 2 jugos y 1 paquete de galletas. Si pagó con un billete de \$100<sup>oo</sup> ¿Cuánto dinero le sobró?

A) \$26<sup>oo</sup>

B) \$74<sup>oo</sup>

C) \$95<sup>oo</sup>

La siguiente tabla muestra los sabores de helado que más les gustan a los alumnos de segundo grado.

Sabor del Helado	Registro	Cantidad
Fresa	### ///	8
Chocolate	###	5
Limón	### ### //	12
Vainilla	//	2
Choco Chips	###	5

15. ¿Cuál es el sabor de helado preferido de los alumnos?


A) Fresa

B) Limón

C) Vainilla




Observa el siguiente caminito.




16. Si Antonio está en la salida y por cada punto que obtenga al lanzar el dado, avanzará 4 espacios. ¿Qué número debió caer en el dado, si llegó a la casilla 24?



A)




B)



C)

Observa el siguiente piso contesta la pregunta 17.



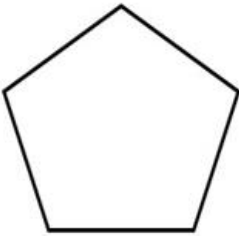
17. Elige la opción correcta que indique la cantidad de mosaicos que tiene el piso.

A) 64

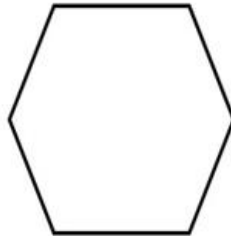
B) 56

C) 34

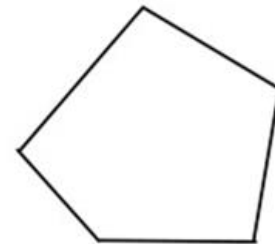
18. Tengo 5 lados y todos son iguales ¿Quién soy?



A)

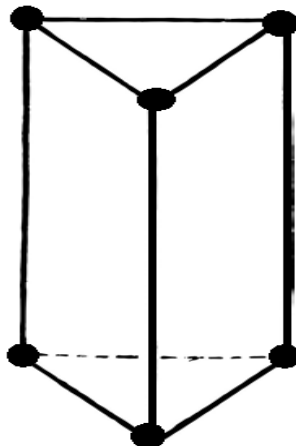


B)



C)

Observa la siguiente figura y responde el reactivo 19.



19. Elige la opción correcta que indique la cantidad de vértices y aristas de la figura anterior.

A) 9 vértices y 6 aristas


B) 6 vértices y 9 aristas

C) 6 vértices y 6 aristas

20. Selecciona el recipiente con mayor capacidad.



A)



B)




C)

### CONOCIMIENTO DEL MEDIO

21. Elige la imagen que representa un cambio físico que has experimentado ahora en segundo grado.



A)



B)



C)

22. Elige la imagen que indique una acción para el cuidado de nuestro cuerpo.



A)




B)



C)


23. Elige la opción que muestre el objeto que puedes percibir únicamente con el sentido del tacto.



A)



B)



C)

24. Es la imagen en que se presenta una forma de cuidar uno de los sentidos.



A)



B)




C)


25. De las siguientes imágenes elige la que muestre cómo se celebra el día de la Independencia de México.



A)



B)



C)

Observa la siguiente imagen.




26. Selecciona la opción con la clasificación a la que pertenecen los animales que se muestran en la imagen anterior.

A) Grandes

B) Medianos

C) Chicos

27. Elige la opción con la clasificación a la que puede pertenecer el siguiente animal.



A) Terrestre

B) Acuático

C) Pequeño

28. Selecciona el momento del día al que corresponde la siguiente imagen.



A) Mañana

B) Tarde

C) Noche



29. Elige la imagen que contenga uno de los derechos de los niños.



A)



B)




C)

30. Selecciona la imagen que muestre lo que pasa al seguir las reglas de un juego.



A)



B)



C)

### FORMACIÓN CÍVICA Y ÉTICA

31. Elige la opción donde se muestre una familia ampliada:



A)




B)



C)

32. Selecciona la opción que representa a quien tiene la obligación, de ofrecer a todos los habitantes los servicios de agua, salud, seguridad, educación y vivienda:



A)




B)



C)

33. ¿Cuál es la opción que presenta algo que necesitamos los seres humanos para vivir y desarrollarnos adecuadamente?



A)



B)



C)

34. Identifica la opción que represente un derecho que tienen las niñas, los niños y los adolescentes:



A)



B)




C)

35. Elige la opción que presente un bienestar emocional:



A)



B)




C)

36. Selecciona la imagen que representa la libertad de expresión:



A)



B)



C)

37. ¿Cuál es la imagen que representa una actividad que sirve para que niñas y niños por igual, resuelvan problemas por medio del diálogo y expresen su opinión con libertad y respeto?



A)



B)



C)

38. Identifica la opción que presenta una imagen donde un niño enfrenta una consecuencia por haber jugado con objetos que ponen en riesgo su seguridad y bienestar:



A)



B)




C)

39. Elige la opción que presenta desechos que los humanos usamos sólo una vez y provoca serios daños al ambiente, debido a que se destruyen lentamente y van a dar a ríos y mares:



A)




B)

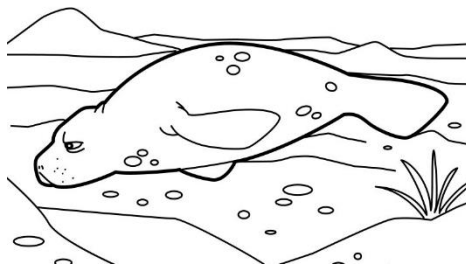


C)

40. Selecciona la opción que contiene una consecuencia de tirar las bolsas de plástico:



A)



B)



C)