

Secretaría de Educación
 Subsecretaría de Educación Básica
 Dirección General de Educación Primaria
 Dirección de Calidad Académica

Instrumento de Evaluación del Segundo Momento 2^{do} grado Ciclo escolar 2022-2023

Nombre del alumno (a): _____
 Nombre del maestro (a): _____
 Nombre de la escuela: _____
 Fecha: _____



Asignatura	Reactivos	Aciertos	Calificación	Promedio
Español	10			<input type="text"/> <hr/> Firma del padre o tutor
Matemáticas	10			
Conocimiento del Medio	10			
Formación Cívica y Ética	10			

INSTRUCCIONES GENERALES

Lee atentamente cada reactivo y subraya la respuesta correcta.

ESPAÑOL

Lee con atención el siguiente texto y responde los reactivos 1, 2 y 3.

Insectos comestibles en México

Desde hace muchos años los insectos han jugado un papel importante en la gastronomía prehispánica, un ingrediente tan variado como los ricos ecosistemas de nuestro País.

Considerados como un nutritivo manjar, hoy en día su consumo se ha popularizado, ya que son una rica fuente de proteína y minerales naturales, inclusive hay quienes afirman que serán el alimento del futuro.

De acuerdo con la Organización de las Naciones Unidas para la Alimentación y Agricultura, en el mundo se llegan a consumir aproximadamente 900,000 insectos entre los cuales se destacan las orugas, hormigas chicatanas, escamoles, escarabajos, chapulines, hormigas, **chinicules**, saltamontes, chinches, cochinillas, ahuatle, termitas, moscas y libélulas.

En México existen 531 especies de insectos comestibles, en algunas zonas urbanas del país se han convertido en platillos de lujo.

<https://gastronomadas.com.mx/insectos-comestibles-en-mexico/>. Adaptación

1. El texto anterior proporciona información sobre:
A) insectos comestibles B) plantas comestibles C) comida tradicional
2. Según el texto, los insectos son considerados como una rica fuente de:
A) sabores y colores B) formas y tamaños C) proteínas y minerales
3. La palabra en el texto resaltada en **negritas** significa:
A) gusano B) hormiga C) saltamontes

Lee el siguiente texto y responde la pregunta 4.

**Zumba que zumarás,
van y vienen sin descanso
de flor en flor trajinando
y nuestras vidas endulzando**

<https://www.cerebrol.com/adivanzas/3VrRjReN/zumba-que-te-zumaras-van-y-vienen-sin-descanso-de-flor-en-flor/>. Adaptación.



4. El texto anterior por sus características es una:

A) copla

B) adivinanza

C) descripción


5. A Daniel le gustó tanto la clase sobre los insectos que decidió investigar más sobre ellos. ¿En cuál de los siguientes libros encontrará más información sobre el tema?



A)



B)



C)

Lee con atención el siguiente texto y responde las preguntas 6, 7 y 8.

La cigarra y la hormiga

Durante el verano, una cigarra se dedicó a cantar y a jugar sin preocuparse por nada. Un día, vio pasar a una hormiga con un enorme grano de trigo.

La cigarra, decidió burlarse de la hormiga y le dijo:

—¡Qué aburrida eres!, deja de trabajar y dedícate a disfrutar.

La hormiga respondió:

—Estoy guardando provisiones para cuando llegue el invierno, te aconsejo que hagas lo mismo.

—Pues yo no voy a preocuparme por nada —dijo la cigarra— Y continuó cantando y jugando.

El invierno no tardó en llegar y la cigarra no encontraba comida.

Desesperada, fue con la hormiga y le pidió algo de comer:

—¿Qué hiciste tú en el verano mientras yo trabajaba? —preguntó la hormiga.

—Andaba cantando y jugando —contestó la cigarra.

—Pues si cantabas y jugabas en verano, sigue cantando y jugando en el invierno —repuso la hormiga— y cerró la puerta.



<https://arbolabc.com/fabulas-para-ni%C3%B1os/la-cigarra-y-la-hormiga>. Adaptación.

6. ¿Cuál es la actitud que tomó la cigarra durante el verano?

A) Enojada

B) Interesada

C) Despreocupada

7. Elige la opción correcta que contenga la enseñanza de la fábula anterior:

**Por más que intentes
agradar a todos,
nunca lo lograrás**

**Si fácilmente obtienes
todo lo que deseas,
fácilmente llegarás a
la desgracia.**

**Las cosas no llegan
solas, esfuerzate por
lograr lo que
necesitas y deseas.**

A)

B)

C)

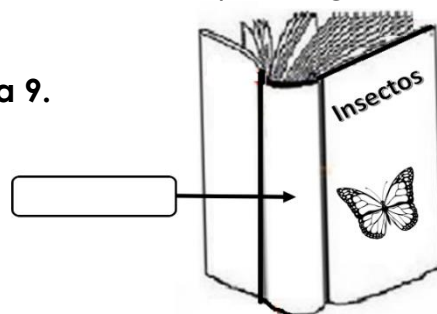
8. ¿Cuáles son los personajes del texto que acabas de leer?:

A) cantar y trabajar

B) invierno y verano

C) hormiga y cigarra

Observa la siguiente imagen y responde la pregunta 9.



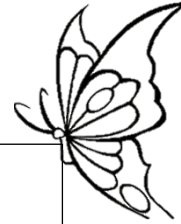
9. ¿Cuál es la parte del libro que se señala?

A) Lomo

B) Portada

C) Contraportada

Lee el siguiente fragmento del poema "Mariposa" y responde la pregunta 10.



Mariposa

Al abrir tus alas de color de oro
iluminas a las flores del jardín
que parecen un lindo tesoro
lleno de rubís, esmeraldas y zafiros que
no tienen fin.

Elizabeth García.

10. En el fragmento anterior se dice que las alas son de color de oro porque...

A) son un diamante

B) son de color amarillo

C) la mariposa es valiosa

MATEMÁTICAS

Observa la siguiente imagen y responde la pregunta 11.

CALENDARIO 2023			
ENERO L M M J V S D 28 27 28 29 30 31 1 2 3 4 5 6 7 8 9 10 11 12 13 14 15 16 17 18 19 20 21 22 23 24 25 26 27 28 29 30 31 1 2 3 4 5	FEBRERO L M M J V S D 30 31 1 2 3 4 5 6 7 8 9 10 11 12 13 14 15 16 17 18 19 20 21 22 23 24 25 26 27 28 1 2 3 4 5	MARZO L M M J V S D 27 28 1 2 3 4 5 6 7 8 9 10 11 12 13 14 15 16 17 18 19 20 21 22 23 24 25 26 27 28 29 30 31 1 2	ABRIL L M M J V S D 27 28 29 30 31 1 2 3 4 5 6 7 8 9 10 11 12 13 14 15 16 17 18 19 20 21 22 23 24 25 26 27 28 29 30
MAYO L M M J V S D 1 2 3 4 5 6 7 8 9 10 11 12 13 14 15 16 17 18 19 20 21 22 23 24 25 26 27 28 29 30 31 1 2 3 4	JUNIO L M M J V S D 29 30 31 1 2 3 4 5 6 7 8 9 10 11 12 13 14 15 16 17 18 19 20 21 22 23 24 25 26 27 28 29 30 1 2	JULIO L M M J V S D 26 27 28 29 30 1 2 3 4 5 6 7 8 9 10 11 12 13 14 15 16 17 18 19 20 21 22 23 24 25 26 27 28 29 30 31 1 2 3 4 5 6	AGOSTO L M M J V S D 31 1 2 3 4 5 6 7 8 9 10 11 12 13 14 15 16 17 18 19 20 21 22 23 24 25 26 27 28 29 30 31 1 2 3
SEPTIEMBRE L M M J V S D 28 29 30 31 1 2 3 4 5 6 7 8 9 10 11 12 13 14 15 16 17 18 19 20 21 22 23 24 25 26 27 28 29 30 1	OCTUBRE L M M J V S D 25 26 27 28 29 30 1 2 3 4 5 6 7 8 9 10 11 12 13 14 15 16 17 18 19 20 21 22 23 24 25 26 27 28 29 30 31 1 2 3 4 5	NOVIEMBRE L M M J V S D 30 31 1 2 3 4 5 6 7 8 9 10 11 12 13 14 15 16 17 18 19 20 21 22 23 24 25 26 27 28 29 30 1 2 3	DICIEMBRE L M M J V S D 27 28 29 30 1 2 3 4 5 6 7 8 9 10 11 12 13 14 15 16 17 18 19 20 21 22 23 24 25 26 27 28 29 30 31

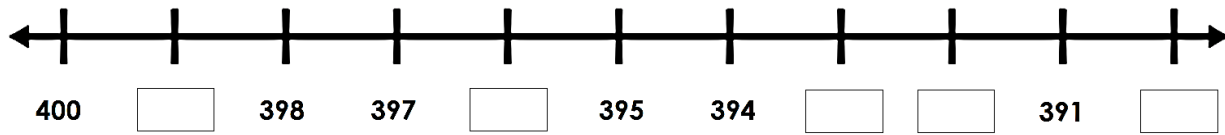
11. Selecciona la opción que indique el mes más corto del año.

A) Mayo

B) Febrero

C) Diciembre

Observa la siguiente imagen y responde la pregunta 12.



12. Selecciona la opción que indique los números que completen correctamente la tabla.

A) 399, 396, 393, 392, 390

B) 401, 404, 407, 408, 410

C) 399, 398, 397, 396, 395

13. Héctor tiene 2 billetes de \$100^{oo} y 35 monedas de \$1^{oo}. Calcula mentalmente y elige la opción que presenta la cantidad total de dinero que tiene Héctor.

A) 135


B) 350

C) 235

14. Selecciona el recipiente que sea menor a un litro:



A)

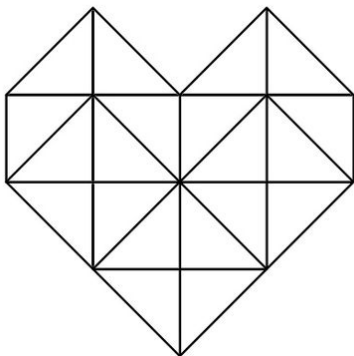


B)

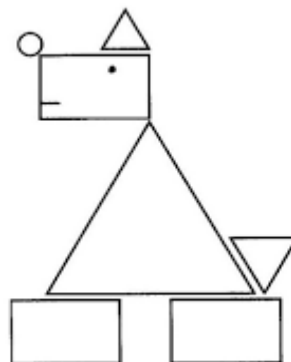


C)


15. Elige el dibujo que esté formado únicamente con triángulos:



A)



B)



C)

Observa la siguiente imagen.

$$7+7+7+7+7=$$

16. Elige la opción que contenga la multiplicación correcta de la suma anterior.

$$7 \times 9 =$$

A)

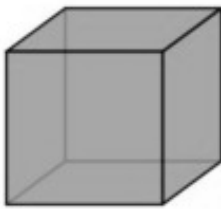
$$7 \times 5 =$$

B)

$$3 \times 5 =$$

C)

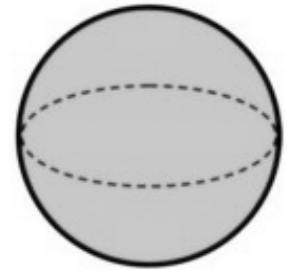
17. Elige la opción correcta que indique la figura que tiene vértices y aristas.



A)

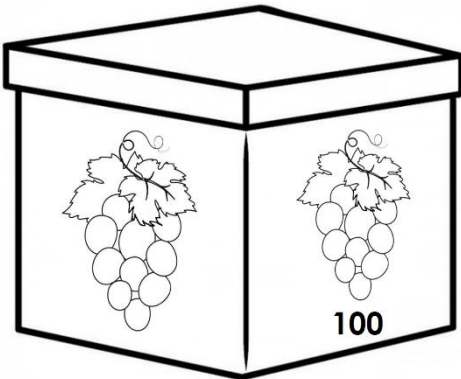


B)



C)

Observa las siguientes imágenes y responde la pregunta 18.




18. Si tienes 234 uvas, ¿cuántas bolsas necesitas para empacarlas?

A) 234 bolsas

B) 23 bolsas

C) 2 bolsas

Observa la siguiente imagen y responde la pregunta 19.



19. Elige la opción que indique, quién dio más pasos para llegar al árbol.

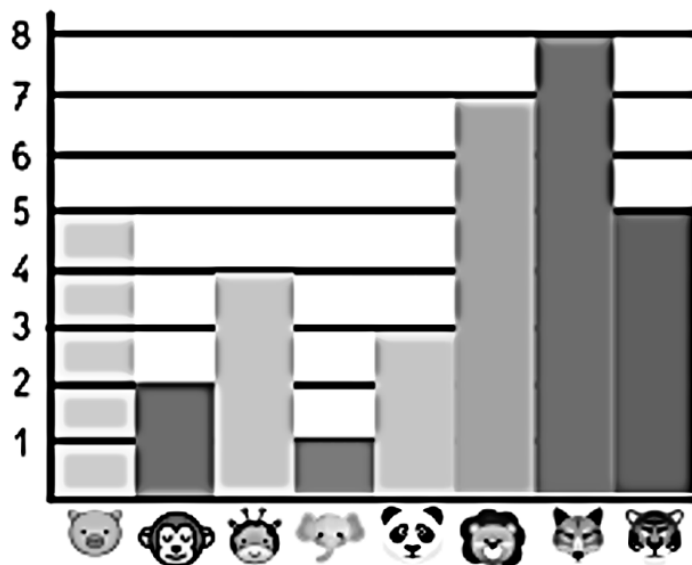
A) El niño

B) La patita

C) La gallina

Observa la siguiente imagen y responde la pregunta 20.

Animales del Zoológico



Encuestados:

Alumnos de Segundo Grado de Primaria

❖ 15 niñas

❖ 18 niños

Animal preferido del Zoológico

Cerdo

Panda

León

Lobo

Tigre

Chango

Jirafa

Elefante

20. ¿Cuál es el animal preferido de los alumnos de segundo grado?

A) El elefante

B) La jirafa

C) El lobo

CONOCIMIENTO DEL MEDIO

21. Selecciona la imagen que corresponda al sentido con el que puedas distinguir la voz de algún familiar:



A) tacto



B) oído



C) olfato

22. ¿Qué podemos hacer para cuidar nuestros oídos correctamente?

A) No secar los oídos

B) Evitar ruidos fuertes

C) Introducir objetos extraños

23. Elige la opción con la tradición en la que se honra a los seres queridos ya fallecidos:



A)



B)



C)

24. Identifica la imagen que da un ejemplo de las tradiciones de invierno:



A)



B)



C)

25. ¿Qué plantas tienen un tronco grueso y duro, su altura es más grande que la de una casa?

A) Yerbas

B) Arbustos

C) Árboles

26. Elige la acción en donde se estén cuidando las plantas:



A)

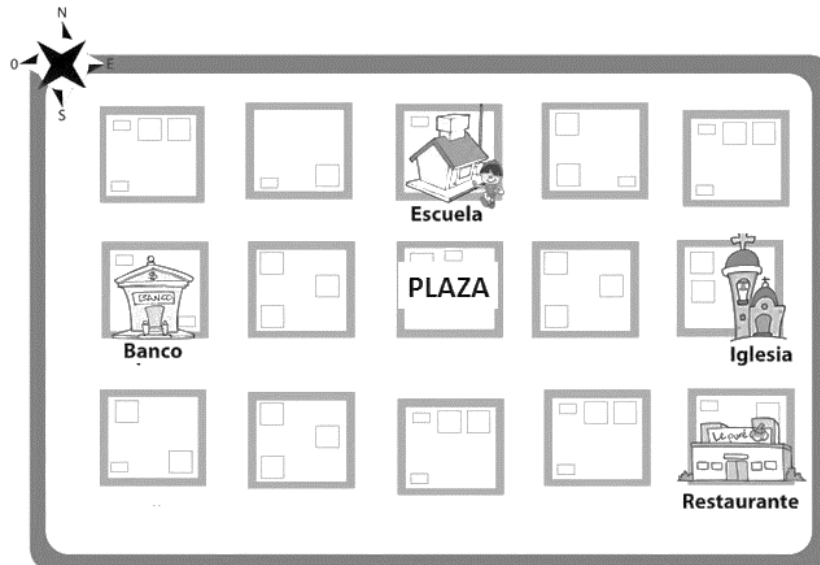


B)



C)

Observa el croquis y responde los reactivos 27 y 28:



27. Selecciona la opción que indique la posición de la plaza en el croquis:

- A) al centro B) a la derecha C) a la izquierda

28. Selecciona el lugar que se encuentre más lejano a la escuela:



Banco

A)



Iglesia

B)



Restaurante

C)

29. Elige de qué manera se puede producir un sonido con alguna parte del cuerpo:



A)



B)



C)

30. ¿Cuál instrumento produce un sonido al soplar?



A) Guitarra



B) Pandero




C) Flauta

FORMACIÓN CÍVICA Y ÉTICA

31. Identifica la imagen que muestre la diversidad cultural de nuestro país:



A)



B)



C)

32. ¿Qué actitudes debes de tener cuando alguien tiene diferentes costumbres a las tuyas?

A) Enojo

B) Respeto

C) Discriminación

33. ¿Qué actividad contribuye a mantener la casa ordenada?



A)



B)



C)

34. Elige la actividad que te permite cuidar tu escuela y comunidad:

A) talar árboles

B) desperdiciar el agua

C) limpiar espacios comunes

35. Identifica la imagen en la que se practique la igualdad entre hombres y mujeres:



A)



B)



C)

36. ¿Qué derecho permite a las mujeres lograr sus aspiraciones?

A) A la educación

B) A la atención médica

C) A la libertad de expresión

37. Elige el dibujo que representa el respeto entre hombres y mujeres.



A)



B)



C)

38. ¿Qué es necesario hacer para resolver cualquier conflicto?

A) Jugar

B) Dialogar

C) Discriminar

39. Elige la imagen que muestre la actitud correcta al tener un conflicto con un compañero:



A)



B)



C)

40. Es una de las formas más seguras para resolver un conflicto:

- A) pelear y agredirse
- B) quejarse en la dirección
- C) dialogar para solucionar el problema