

Secretaría de Educación
 Subsecretaría de Educación Básica
 Dirección General de Educación Primaria
 Dirección de Calidad Académica

Instrumento de Evaluación Diagnóstica
2^{do} grado Ciclo escolar 2023-2024

Nombre del alumno (a): _____
 Nombre del maestro (a): _____
 Nombre de la escuela: _____
 Fecha: _____

2
GRADO



Asignatura	Reactivos	Aciertos	Calificación
Español	10		
Matemáticas	10		
Conocimiento del Medio	5		
Formación Cívica y Ética	5		

Promedio


 Firma del padre o tutor

INSTRUCCIONES GENERALES


Lee atentamente cada reactivo y subraya la respuesta correcta.

ESPAÑOL

1. Escribe tu nombre en el espacio que corresponde:



2. Dibuja un objeto que inicie con la misma letra que tu nombre:



Lee con atención el siguiente texto informativo y responde los reactivos 3 al 5.

La ballena gris

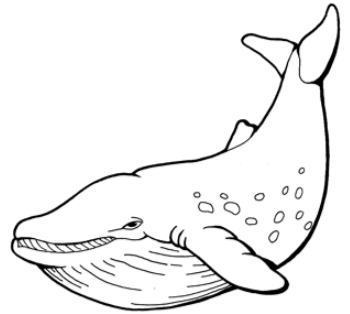
La ballena gris es una de las especies más grandes del mundo marino. Mide de 11 a 15 metros con un peso aproximado de 30 toneladas.

Este cetáceo realiza una de las migraciones más largas, al recorrer más de 9 mil kilómetros. Su travesía dura alrededor de 3 meses e inicia en los mares de Bering, Chukchi y Beaufort en Alaska, donde se alimenta para llegar hasta la costa occidental de la Península de Baja California y Golfo de California, ahí realiza sus actividades reproductivas de diciembre a abril.

En 1972 el Gobierno decretó la creación de los primeros santuarios de las Lagunas de San Ignacio y Ojo de Liebre-Guerrero Negro en el estado de Baja California Sur.

Los refugios han permitido el cuidado y preservación de estos cetáceos, ya que sus aguas templadas son idóneas para su reproducción, y las políticas de protección en México garantizan su seguridad durante su estancia en aguas mexicanas.

Desde la década de los treintas, la ballena gris se encuentra protegida internacionalmente a través de la Comisión Ballenera Internacional de la que México forma parte.



Adaptación. CONAAP

3. ¿Cuál es el tiempo aproximado que tarda la ballena gris en realizar la travesía de Bering a la Península de Baja California?

- A) 9 mil kilómetros
- B) 11 a 15 meses
- C) 3 meses

4. Selecciona la opción con la recomendación correcta para el cuidado de la ballena gris:

Evitar dejar redes de pesca en el mar.	Colocar botes de agua en las banquetas.	Manejar con precaución y respetar los señalamientos.
--	---	--

- A)
- B)
- C)

5. Elige la noticia que se relaciona con el texto informativo “La ballena gris”:

Día Mundial de las Ballenas: 35 años que recuerdan el pasado de Quintay

En febrero de 1986 la Comisión Ballenera Internacional prohibió la pesca industrial de esta cetacea, cuya caza y comercialización tuvo efectos importantes en la economía regional a mediados del siglo 20.

En febrero de 1986 la Comisión Ballenera Internacional prohibió la pesca industrial de esta cetacea, cuya caza y comercialización tuvo efectos importantes en la economía regional a mediados del siglo 20.

En febrero de 1986 la Comisión Ballenera Internacional prohibió la pesca industrial de esta cetacea, cuya caza y comercialización tuvo efectos importantes en la economía regional a mediados del siglo 20.

Las especies que podrían desaparecer en este año

Investigación: Si 2025 es un año complicado para los animales en peligro de extinción, 2027 será peor para algunos, como la vaca marina, las jirafas y los tigres.

Investigación: Si 2025 es un año complicado para los animales en peligro de extinción, 2027 será peor para algunos, como la vaca marina, las jirafas y los tigres.

Investigación: Si 2025 es un año complicado para los animales en peligro de extinción, 2027 será peor para algunos, como la vaca marina, las jirafas y los tigres.

Volcán Popocatepetl podría hacer erupción

Olvídalo decir... ¿Por qué tanta preocupación? ¿Por qué tanta preocupación? ¿Por qué tanta preocupación?


Olvídalo decir... ¿Por qué tanta preocupación? ¿Por qué tanta preocupación? ¿Por qué tanta preocupación?

Olvídalo decir... ¿Por qué tanta preocupación? ¿Por qué tanta preocupación? ¿Por qué tanta preocupación?

- A)
- B)
- C)

Lee con atención el siguiente texto y responde correctamente los reactivos 6 y 7.

Uga la tortuga



Se abre el telón. Se ve a los animales en el mar charlando.

Uga, la tortuga: (pasea por el mar con cara triste)
¡Todo me sale mal!

Pedro, el cangrejo: No pasa nada, no te preocupes, ya te saldrán mejor las cosas.

Uga, la tortuga: Pero es que siempre llego tarde a todo.

Sofía, la ballena: Sí, es verdad, y también eres la última en terminar las tareas.

Uga, la tortuga: (todavía más triste) ¡Tengo que hacer algo para cambiar! ¡Estoy cansada de que mis compañeros siempre me recriminen y me digan que me esfuerzo poco!...

Adaptación. Horacio Quiroga

6. La parte que está subrayada en la obra de teatro "Uga la tortuga" se llama...

A) escena

B) acotación

C) escenografía

7. ¿Por qué crees que se sentía triste Uga la tortuga?

A) Porque era muy rápida

B) Porque le gusta jugar

C) Porque era lenta

Observa la siguiente imagen y responde el reactivo 8.



8. Elige la opción correcta que incluya la descripción de Marisa:

Cabello lacio, ojos pequeños y muy alta.

A)

Cabello chino, ojos grandes y de estatura media.

B)

Cabello largo, muy delgada y pequeña.

C)

Lee con atención el siguiente texto y responde el reactivo 9.

La ballena Rita

La ballena Rita, está muy chiquita,
nada por los mares de color zafiro,
juega entre las olas y la espuma blanca,
y da saltos grandes y a todos encanta.

Anónimo

9. La parte subrayada del poema quiere decir que...

- A) el mar es un zafiro
- B) el color del mar es azul
- C) el mar es de piedras preciosas

10. Otra forma que puedes usar para decir que "José tiene una fractura en la muñeca":

José se quebró la
mano

A)

José quebró la
muñeca


B)

José se quebró el
hombro


C)

MATEMÁTICAS

11. Selecciona la opción que contenga más objetos:



A)




B)




C)


Observa la siguiente imagen y responde correctamente el reactivo 12.



12. Selecciona la opción que contenga la cantidad correcta de dinero para pagar la paleta de corazón:



A)

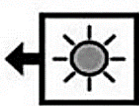

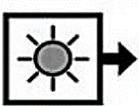


B)



C)

Observa la siguiente tabla y responde el reactivo 13.

 AYER FUE	 HOY ES JUEVES	 MAÑANA SERÁ


13. Elige la opción que contenga los días que completan correctamente la tabla:

- A) martes y miércoles B) miércoles y viernes C) viernes y sábado

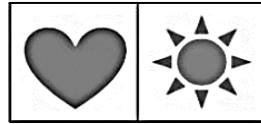
Observa la siguiente sucesión y responde correctamente el reactivo 14.




14. Selecciona la opción con las figuras que complementan correctamente la serie:



A)




B)



C)

Cuenta con atención las siguientes figuras y responde correctamente el reactivo 15.



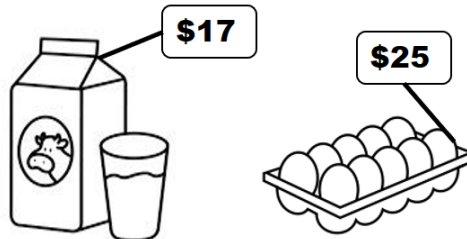
15. ¿Cuántas fichas faltan para completar 30?

A) 6

B) 4

C) 3

Observa el precio de los siguientes productos y responde correctamente el reactivo 16.



16. ¿Cuál es la diferencia entre el costo de la leche y los huevos?

A) \$10.00

B) \$8.00

C) \$5.00

Observa la siguiente tabla y responde el reactivo 17.

Mascotas de las niñas y los niños de 1.º grado	
Mascota	Conteo
	
	
	

17. Elige la opción correcta que indique cuál es el animal preferido de los niños de Primer Grado:

A) perro

B) gato

C) pajarito


18. ¿Cuál es el número que se forma con 4 decenas y 17 unidades?

A) 11

B) 21

C) 57

Observa la siguiente tarjeta y responde el reactivo 19.



19. Elige la opción correcta que indique la cantidad que falta para llegar a 100.

A) 33

B) 43

C) 57

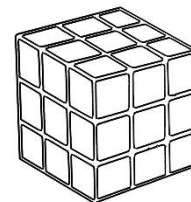
20. Selecciona el objeto que tenga la forma de un cuerpo geométrico que rueda.



A)



B)



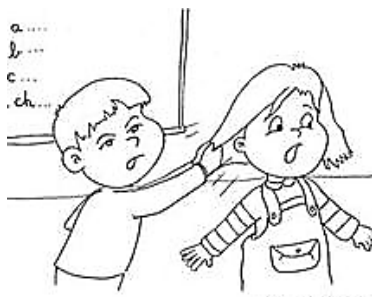
C)

CONOCIMIENTO DEL MEDIO

21. ¿Cuál es la imagen que representa la forma correcta de comportarse dentro del salón?



A)




B)



C)


Observa con atención el siguiente croquis y responde correctamente el reactivo 22.




22. La escuela se encuentra...

- A) a la izquierda del banco B) a la izquierda del museo C) frente la biblioteca


23. ¿Cuál de los siguientes animales no tienen cubierto su cuerpo de plumas?



A)



B)



C)

24. ¿Cuál de los siguientes objetos produce luz natural?



A)



B)



C)

25. Señala cuál de las siguientes imágenes representa una actividad para proteger el medio ambiente.



A)



B)



C)

FORMACION CÍVICA Y ÉTICA

26. ¿Cuál es el documento en el que se registra el nacimiento de una persona y aparecen sus datos personales, como nombre y nacionalidad?

A) Acta de nacimiento

B) Calificación

C) Pasaporte

27. Señala cuál es un derecho de los niños y las niñas.

A) No ayudar en casa


B) No cuidar los árboles

C) La educación


28. ¿Cuál de las siguientes imágenes representa que han tomado una buena decisión los alumnos?



A)



B)



C)

29. Forman parte de las tradiciones y costumbres de una comunidad:

A) comida, música y danza B) escuela, foro y salones C) amigos, papás y primos

30. Cuando los niños y las niñas reciben el mismo trato, oportunidades y tienen los mismos derechos se le llama...

A) igualdad de género B) participación C) organización