



Secretaría de Educación  
 Subsecretaría de Educación Básica  
 Dirección General de Educación Primaria  
 Dirección de Calidad Académica

**Instrumento de Evaluación Diagnóstica**  
**3<sup>er</sup> grado Ciclo escolar 2023-2024**

Nombre del alumno (a): \_\_\_\_\_  
 Nombre del maestro (a): \_\_\_\_\_  
 Nombre de la escuela: \_\_\_\_\_  
 Fecha: \_\_\_\_\_



**3**  
GRADO

Asignatura	Reactivos	Aciertos	Calificación	Promedio
Español	10			<input type="text"/>
Matemáticas	10			
Conocimiento del Medio	10			
Formación Cívica y Ética	10			

Firma del padre o tutor


## INSTRUCCIONES GENERALES

Lee atentamente cada reactivo y subraya la respuesta correcta.

### ESPAÑOL

Lee con atención el siguiente texto y responde el reactivo 1.

**Los perros**






El perro es una mascota muy popular. Tiene el cuerpo cubierto con pelaje y sus dientes son afilados. Hay perros de diferentes tamaños y colores. Comen alimento para perro elaborados con carne. Para comunicarse utilizan el movimiento. Por ejemplo; están contentos al mover la cola y enojados al mostrar los dientes. No todos los perros son mascotas; algunos ayudan a cazar, jalar trineos y arrear animales en las granjas. Otros ayudan a las personas con alguna discapacidad.

1. Por sus características el texto anterior es:

- A) narrativo
- B) descriptivo
- C) informativo


2. ¿En qué libro de la biblioteca encontramos coplas?



Lee el siguiente instructivo y responde correctamente el reactivo 3.

[ ]

[ ]



° Una tela para tapar los ojos de quien sea el “ gallito ciego” o la “gallina ciega”.

[ ]

- \* Elegir a una persona para que haga de gallito o gallina ciega y vendarle los ojos.
- \* Los demás participantes deben de ubicarse a su alrededor tomados de las manos.
- \* Quien hace de gallito o ganilla ciega debe de atrapar a alguno de los jugadores de la ronda, que pueden moverse, pero no soltarse.
- \* Cuando el gallito o gallina ciega capturan alguien, debe de adivinar quien es mediante el tacto.
- \* Si acierta, el jugador atrapado pasa a ser el gallito o gallina ciega y el juego vuelve a comenzar.

3. ¿Cuál es el orden correcto para completar el instructivo anterior según su estructura?

- A) La gallinita ciega, materiales, procedimiento
- B) Procedimiento, materiales, la gallinita ciega
- C) Materiales, procedimiento, la gallinita ciega

Observa y lee el siguiente anuncio publicitario.



4. ¿Cuál es la función del anuncio?

- A) Educar
- B) Vender
- C) Informar

**Lee el siguiente cuento y responde el reactivo 5**


Érase que se era un grupo de animales que se preguntaban qué sabor debía de tener la Luna. Se ponían de puntillas y estiraban el cuello y las patas intentando tocarla. Pero no servía de nada. La pequeña tortuga decidió subir a la montaña más alta para poder alcanzar la Luna. Pero aun así la tortuga no pudo tocarla.

Michael Greniej / fragmento (traducción y adaptación).

5. ¿Qué información querían saber los animales sobre la Luna?

- A) Olor
- B) Color
- C) Sabor

**Lee el siguiente poema y contesta el reactivo 6.**



6. Según el verso resaltado en negrita, el autor pretende decir que la Luna es:

- A) redonda
- B) brillante
- C) enorme

7. ¿Qué información no aparece en el acta de nacimiento?

- A) Apellidos
- B) Código QR
- C) Número telefónico

8. Selecciona la opción que presenta un par de palabras palíndromas:

- A) lunes – oye
- B) Ana - reconocer
- C) pañuelo - paquete

Lee el siguiente fragmento de una obra de teatro y después responde los reactivos 9 y 10

CENICIENTA  
(Fragmento)

CENICIENTA: *(Muy feliz e ilusionada)* ¡Qué bien! Por fin podré conocer el hermoso palacio y al apuesto príncipe.

MADRASTRA: *(Muy enojada)* Tu no irás al baile *(Señalando con el dedo índice)*

CENICIENTA: *(Llorando triste)* ¿Por qué?

MADRASTRA: ¡Porque tú no eres una princesa! ¡Ja, ja, ja! *(Riendo de forma malvada)*

CENICIENTA: Por favor madrastra, déjame ir al baile *(Suplicando)*

MADRASTRA: *(Enojada)* Te dije que ¡NO! ¡LIMPIA CENICIENTA!



9. Los personajes que aparecen en el fragmento anterior son:

- A) cenicienta y príncipe
- B) cenicienta y madrastra
- C) cenicienta y hermanastra

10. ¿Qué representan las frases que están entre paréntesis?

- A) Vestuario
- B) Acotaciones
- C) Escenografía

### MATEMÁTICAS

11. Completa las siguientes oraciones correctamente:

\* Mi hermana nació en el mes número 6. Mi hermana nació en el mes de .

\* El lunes veo una serie de dibujos animados. Al día siguiente veo un programa de cocina. El programa de cocina lo veo el día .

- A) junio - martes
- B) martes - julio
- C) junio - miércoles

12. ¿Cuál es la actividad que dura más tiempo?

A)




B)



C)



13. Juan y Rosa jugaron boliche y obtuvieron los siguientes puntos. Para poder canjearlos por premios deben llegar a 100 puntos. ¿Cuántos puntos le faltan a cada uno para cambiarlos por premios?



- A) Juan 15 puntos – Rosa 10 puntos
- B) Juan 10 puntos – Rosa 15 puntos
- C) Juan 14 puntos – Rosa 10 puntos

14. En una granja hay 100 conejos y 35 gallinas. ¿Cuántos animales hay en total en la granja?

- A) 35
- B) 135
- C) 153


15. Para la fiesta de cumpleaños de Luis, su mamá realizó 39 bolsitas de dulces en total; unas son para niñas y otras para niños. ¿Cuántas bolsitas de dulces podría haber hecho para niñas y niños?

- A) 10 y 17
- B) 13 y 23
- C) 15 y 24

16. En la fiesta los niños jugaron a carrera de obstáculos, a cada ganador le daban 100 pesos; si se gastó 1000 pesos en premios, ¿cuántos niños resultaron ganadores?

- A) 10
- B) 100
- C) 1000

17. María va a preparar una receta donde con cada tazón de arroz que utiliza obtiene 3 porciones. ¿Cuántas tazas de arroz necesita para 12 personas?



- A)
- B)
- C)

18. Pepe, Felipe y Daniel estuvieron ahorrando para hacer un viaje en el verano; en la imagen siguiente se menciona lo que ahorraron. ¿Quién ahorró menos dinero?

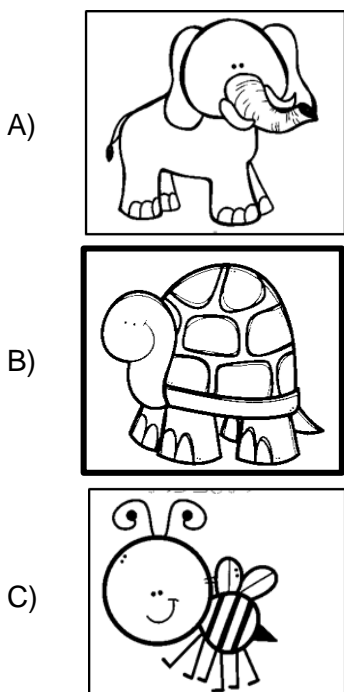


- A) Felipe
- B) Pepe
- C) Daniel

19. En el kermes de fin de curso, Perla vendió 17 elotes en media mañana y María 26. ¿Cuántos elotes más tiene que vender Perla para igualar la misma cantidad de María?


- A) 10
- B) 9
- C) 8

20. ¿Cuál de los siguientes animales vive por más tiempo?



## CONOCIMIENTO DEL MEDIO

21. Selecciona la opción que señala los alimentos que debemos consumir para mantenernos sanos.



A) 1,3,4

B) 3,2,4

C) 2,1,4

22. Selecciona la acción que te permite cuidar el sentido de la vista.

A) Bañarse todos los días

B) Escuchar la música con volumen moderado

C) Ver la televisión a una distancia prudente

23. Elige la opción que representa la tradición en la que se celebra la independencia de México.

LAS POSADAS



A)

GRITO DE DOLORES




B)

ALTAR DE MUERTOS



C)

Observa la siguiente imagen y responde correctamente el reactivo 24.



24. Selecciona la opción que indique cómo están clasificados los animales en la imagen anterior

A) Por el tamaño

B) Por el lugar donde viven

C) Por su color



25. Selecciona la opción que señala la planta que llega a alcanzar una altura más grande que una casa y tiene un tronco duro y grueso:



A)




B)



C)

26. Selecciona la opción que indique hacia dónde debe caminar María para llegar a la biblioteca en el siguiente croquis:



A) al centro

B) a la derecha

C) a la izquierda

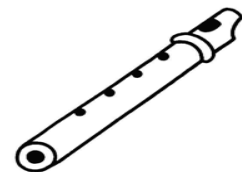
27. ¿Cuál instrumento produce un sonido al soplar?



A) Guitarra



B) Pandero



C) Flauta

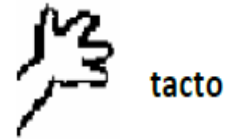
28. Permite saber si un alimento es dulce, salado, amargo o ácido.



A)



B)



C)

29. Encierra el objeto o material en el que hay un gas.



A)



B)



C)


30. Elige la imagen en la que observes que se está reduciendo la contaminación



A)



B)



C)

## FORMACIÓN CÍVICA Y ÉTICA

31. Elige a una persona que trabaja en tu comunidad como una red que te cuida y te protege



A)



B)



C)

32. De las siguientes necesidades; ¿cuál es la que se relaciona estrechamente con el derecho a la salud?



A)



B)



C)

33. La maestra de segundo grado quiere que entre todos sus alumnos elaboren un reglamento para ...

- A) expresarse y trabajar juntos
- B) que los amigos se sienten juntos
- C) que participen los mismos alumnos

34. ¿Qué actividad **NO** contribuye a mantener la casa ordenada?



A)



B)




C)


35. Identifica la imagen que represente la diversidad cultural de nuestro país:



A)



B)



C)

36. Es un ejemplo de igualdad:

- A) Repartir las tareas de la casa a las mujeres
- B) Carlos tiene que trabajar duro para traer dinero a su casa
- C) La mujer y el hombre realizan juntos la tarea de cuidar a los niños

37. ¿Qué es necesario para resolver cualquier conflicto?

- A) Dialogar
- B) Pelear
- C) Gritar

38. Una votación permite que...

- A) siempre se gane y que esto sea normal
- B) participen todos en la toma de decisiones
- C) el resultado siempre coincida con que queríamos

39. Es un ejemplo de autoridad en tu comunidad...



A)



B)




C)

40. Selecciona la imagen en la que se realizan acciones dentro de la escuela para cuidar el medio ambiente.



A)



B)



C)